


KINH HOẠT ĐỘNG





TRUYỀN ĐIỆN





Luật chơi: Mỗi bạn sẽ đưa ra phép tính liên quan đến đơn vị ki – lô – gam và lít sau đó truyền nhanh cho một bạn nêu kết quả. Bạn nào chưa kịp nghĩ ra phép tính hay kết quả sẽ bị giật điện.

BÀI 18:

LUYỆN TẬP CHUNG






Yêu cầu cần đạt



Nhận biết, cảm nhận được về khối lượng, dung tích; thực hiện được các phép tính cộng trừ với số đo khối lượng (kg) và số đo dung tích (l).

Vận dụng giải các bài tập, các bài toán thực tế liên quan đến các đơn vị đo ki-lô-gam và lít.





LUYỆN TẬP





1 Tính

$$\text{a) } 40\text{kg} + 20\text{kg} =$$

$$60\text{kg} - 40\text{kg} =$$

$$8\text{kg} + 5\text{kg} =$$

$$13\text{kg} - 8\text{kg} =$$

$$25\text{kg} + 31\text{kg} =$$

$$56\text{kg} - 31\text{kg} =$$

$$\text{b) } 30\text{l} + 10\text{l} =$$

$$40\text{l} - 10\text{l} =$$

$$7\text{l} + 6\text{l} =$$

$$13\text{l} - 7\text{l} =$$

$$45\text{l} + 23\text{l} =$$

$$68\text{l} - 23\text{l} =$$



Thỏ, gà, chó chơi cầu thăng bằng. Biết cả hai trường hợp dưới đây cầu đều thăng bằng.

2 Số ?

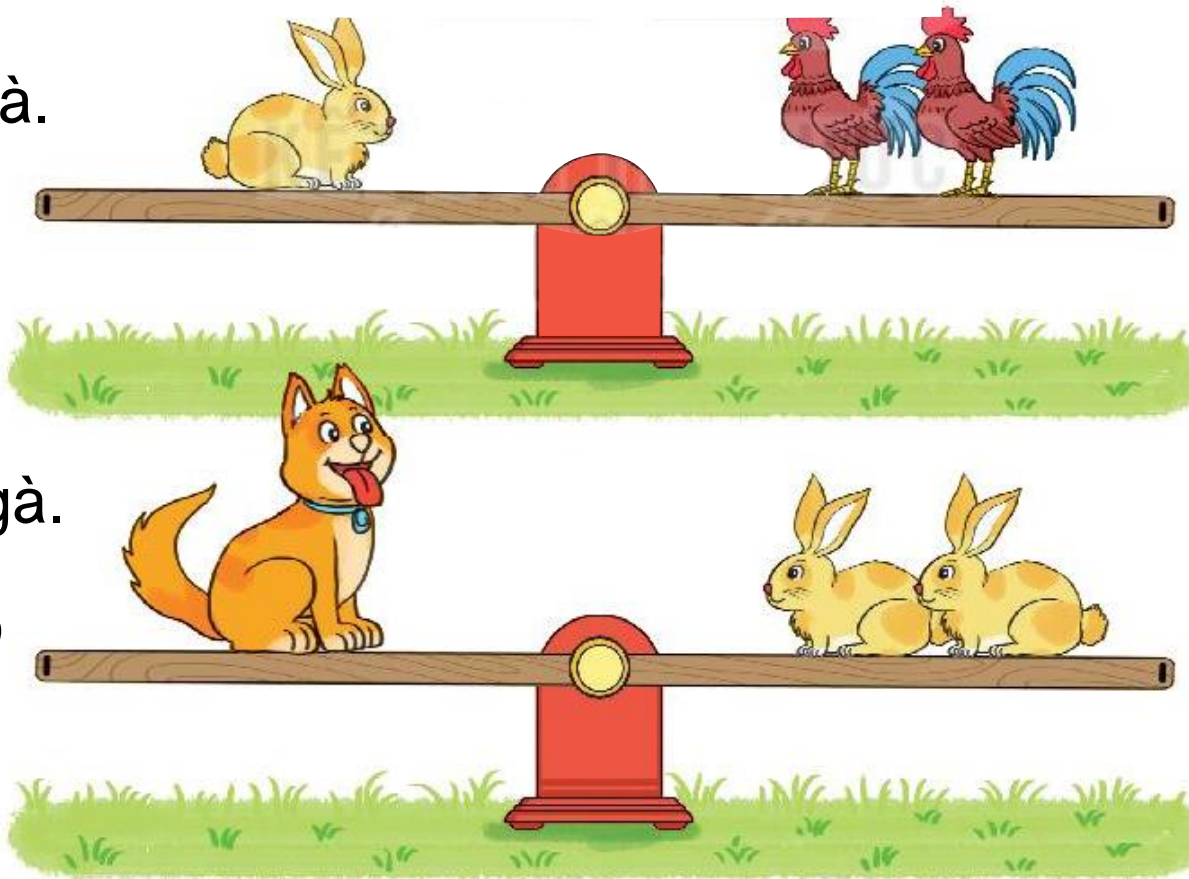
a) Con thỏ nặng bằng con gà.

$2 \text{ con thỏ} = (2 + 2) \text{ con gà}$

$2 \text{ con thỏ} = 4 \text{ con gà}$

b) Con chó nặng bằng con gà.

Con chó nặng bằng 2 con thỏ





- 3 Tại cửa hàng xăng dầu, một người đi ô tô vào mua 25l xăng, một người mua 3l xăng. Hỏi cả hai người mua bao nhiêu lít xăng.

Cả hai người mua số lít xăng là:

$$25 + 3 = 28 \text{ (l)}$$

Đáp số: 28l





4 Có năm túi gạo sau:



a) Muốn lấy 2 túi gạo để được 13kg gạo thì phải lấy 2 túi gạo nào?

$$6\text{kg} + 7\text{kg} = 13\text{kg}$$

b) Muốn lấy 3 túi gạo để được 9kg gạo thì phải lấy 3 túi gạo nào?

$$2\text{kg} + 4\text{kg} + 3\text{kg} = 9\text{kg}$$



DẶN DÓ

Hoàn thành các bài tập

Chuẩn bị bài mới.





**CHÚC CÁC EM
HỌC TỐT!**